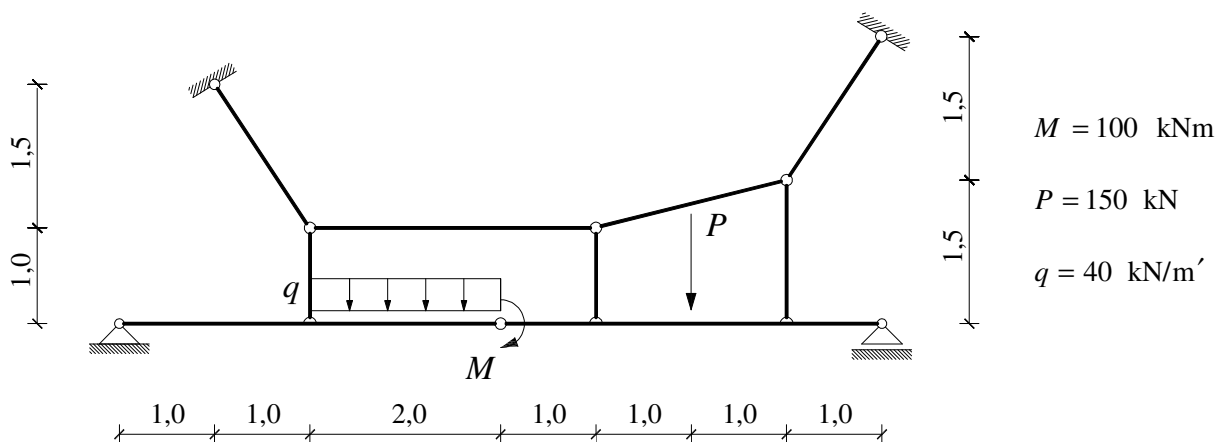
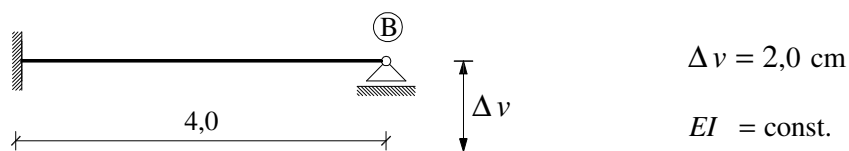


GS 1. – 04.09.2007.

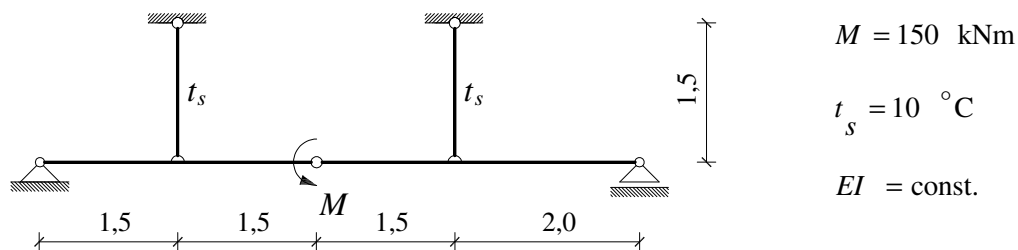
1. Primjenom principa superpozicije nacrtajte M dijagram.



2. Primjenom metode sila izračunajte kut zaokreta osi neposredno lijevo od točke B.



3. Primjenom metode sila nacrtajte M dijagram.



4. Za zadano opterećenje izračunajte moment u polovici raspona pomoću zadane utjecajne linije za traženi moment.

