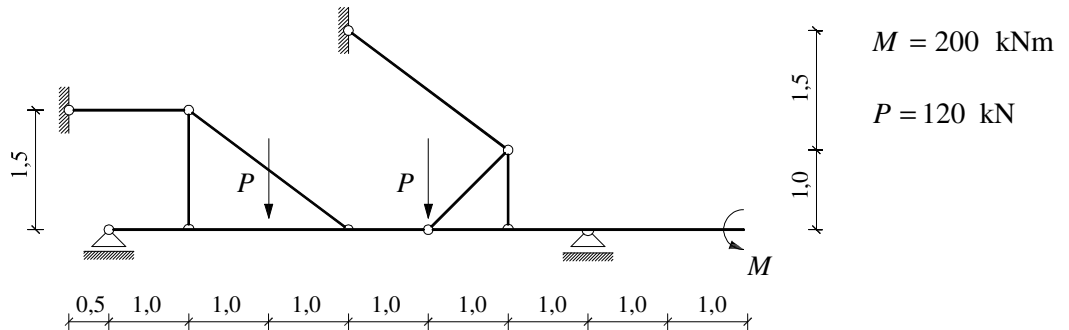
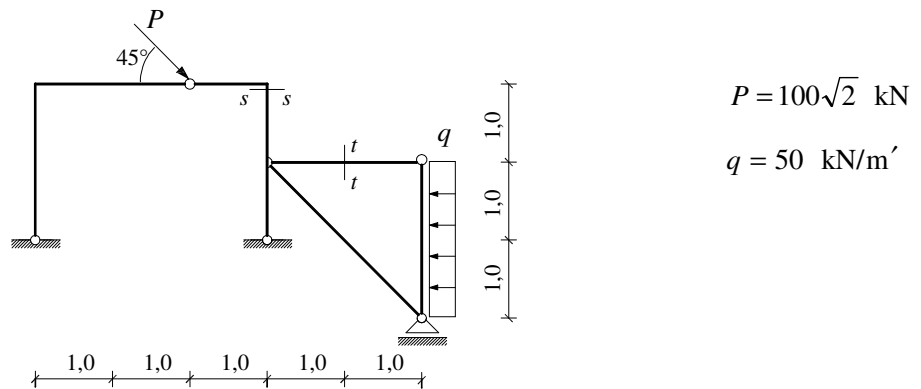


GS 1. – 14.09.2010.

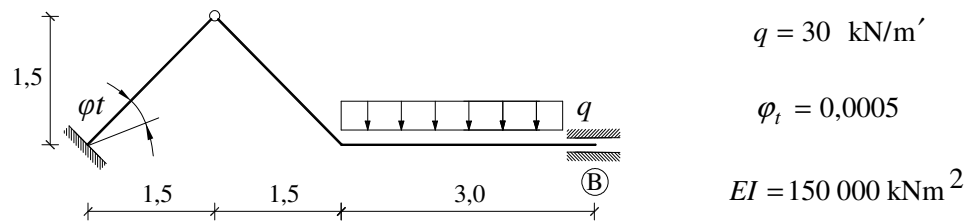
1. Primjenom principa superpozicije nacrtajte M dijagram, te iz diferencijalnih odnosa T dijagram.



2. a) Grafičkim postupkom odredite sile u poprečnom presjeku $t-t$ i $s-s$.
b) Nacrtajte M dijagram.



3. Primjenom metode sila nacrtajte M dijagram. Izračunajte horizontalni pomak točke B .



4. Za zadano opterećenje pomoću zadanih utjecajnih linija izračunajte moment na ležaju A i reakciju na ležaju B .

