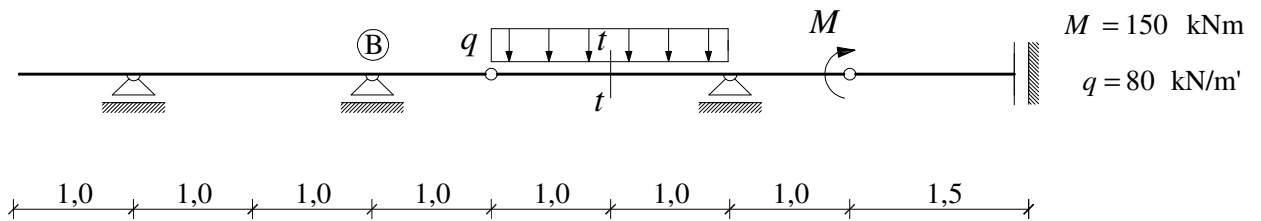


## GS 2. – 2. kolokvij (A) (2007./2008.)

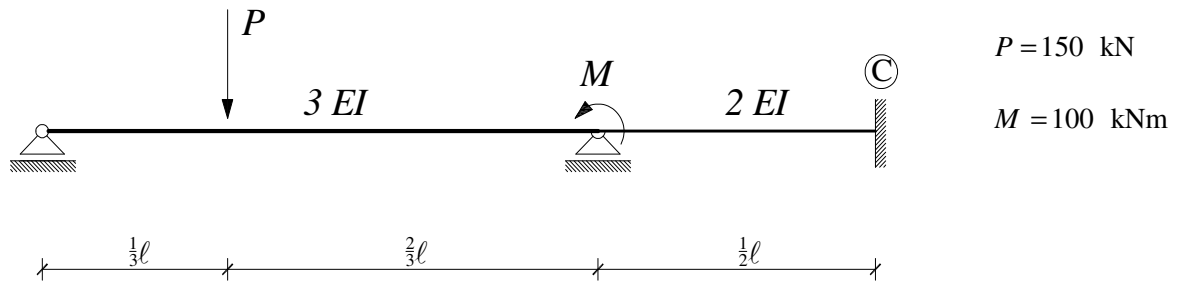
1. (5) Pomoću utjecajne linije izračunajte poprečnu silu u presjeku  $t-t$ .



2. (20) Pomoću utjecajnih linija izračunajte reakciju u ležaju **B** i moment u presjeku  $t-t$ .

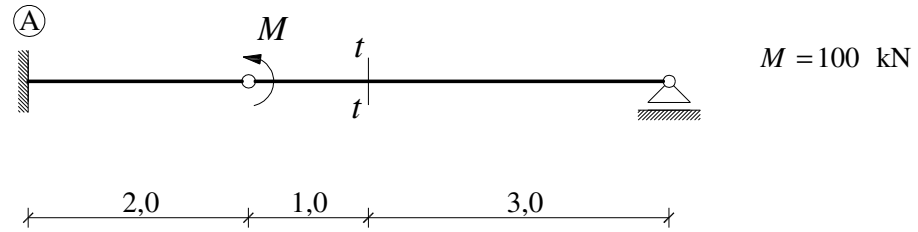


3. (25) Pomoću utjecajne linije izračunajte moment u ležaju **C**.

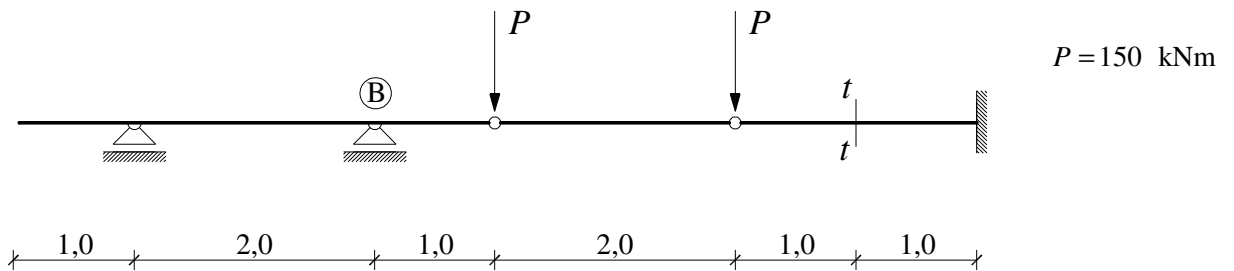


## GS 2. – 2. kolokvij (B) (2007./2008.)

1. (10) Pomoću utjecajnih linija izračunajte moment u ležaju A i moment u presjeku  $t-t$ .



2. (15) Pomoću utjecajnih linija izračunajte reakciju u ležaju B i poprečnu silu u presjeku  $t-t$ .



3. (25) Pomoću utjecajne linije izračunajte reakciju u srednjem ležaju.

