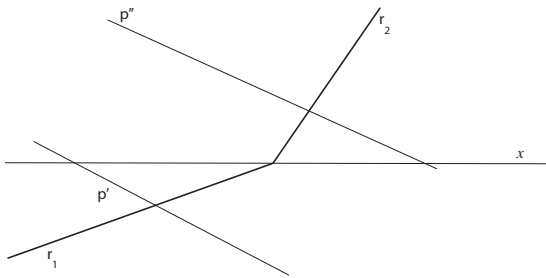
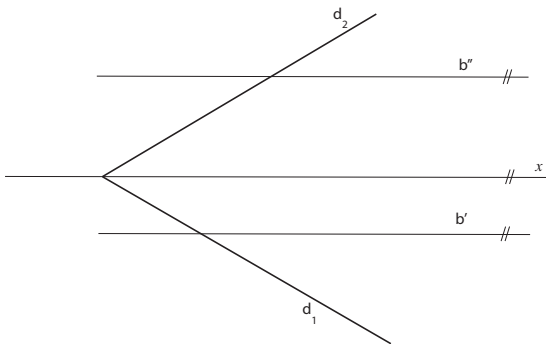


6. vježbe - zadaci za vježbe

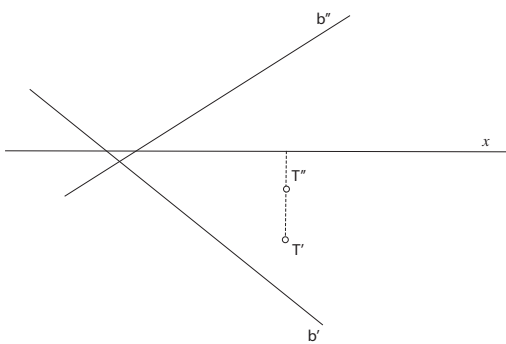
1. Konstruirajte projekcije probodišta pravca p i ravnine P .



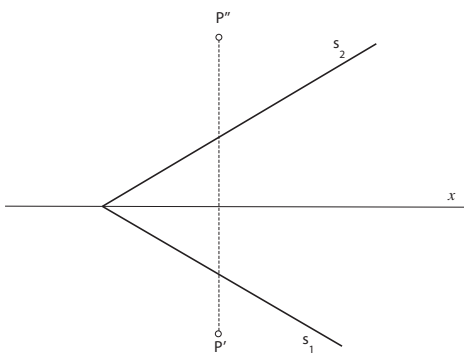
2. Konstruirajte projekcije probodišta pravca b i ravnine Δ .



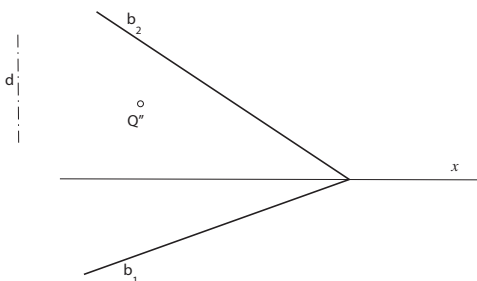
3. Konstruirajte tragove ravnine koja sadrži točku T , a okomita je na pravac b .



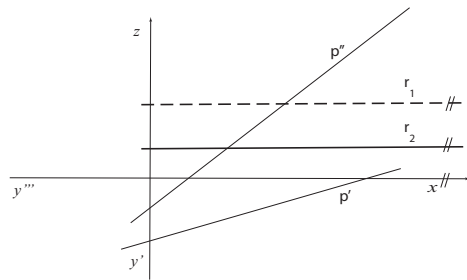
4. Odredite udaljenost točke P od ravnine Σ .



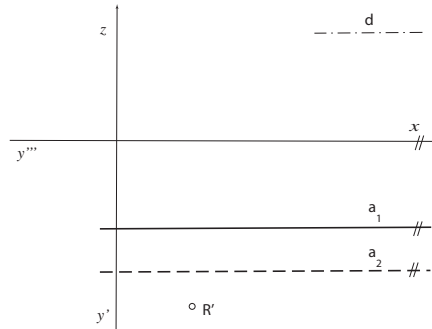
5. Iz točke $Q \in B$ uzdignite okomicu na ravninu B zadane duljine d .



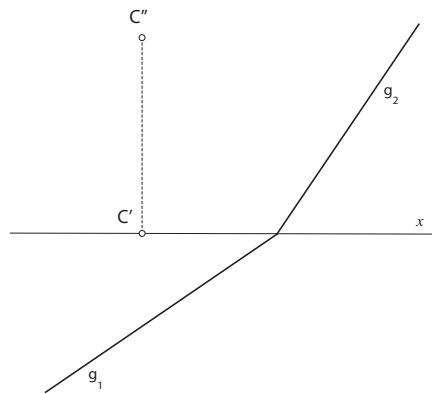
6. Konstruirajte projekcije probodišta pravca p i ravnine P .



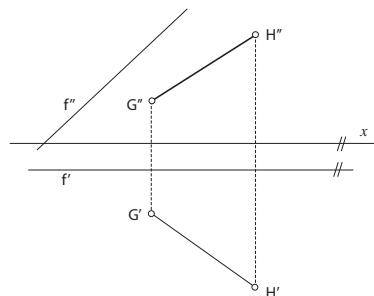
7. Iz točke $R \in A$ uzdignite okomicu na ravninu A zadane duljine d .



8. Konstruirajte projekcije točke D koja je simetrična točki C s obzirom na ravninu Γ .



9. Konstruirajte projekcije one točke pravca f koja je jednako udaljena od točaka G i H .



10. Konstruirajte tragove ravnine koja sadrži pravac t , a okomita je na ravninu E .

